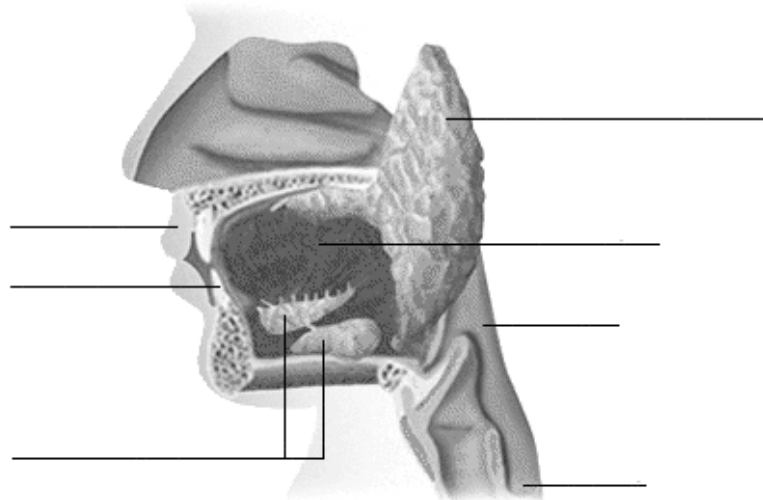


## EL APARATO DIGESTIVO

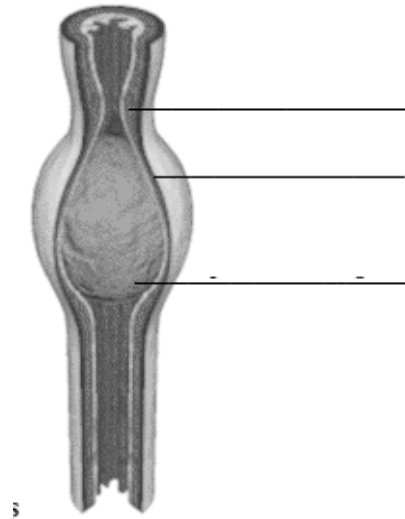
### LA BOCA

1. Completa el siguiente esquema correspondiente a la parte superior del aparato digestivo:

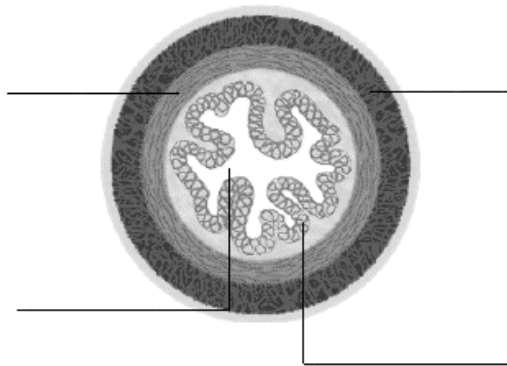


2. Di cuál es la función de la saliva.
3. Qué nombres reciben las diferentes glándulas salivales y donde se encuentran?
4. Por qué son rosados los extremos de los labios?
5. Di cuáles son las funciones de la lengua, aparte de charlar.

6. **Ver** al apartado *Como traguemos* (primera pantalla), llena el siguiente esquema y explica la función y como se produce el movimiento **peristáltic** en el esófago.

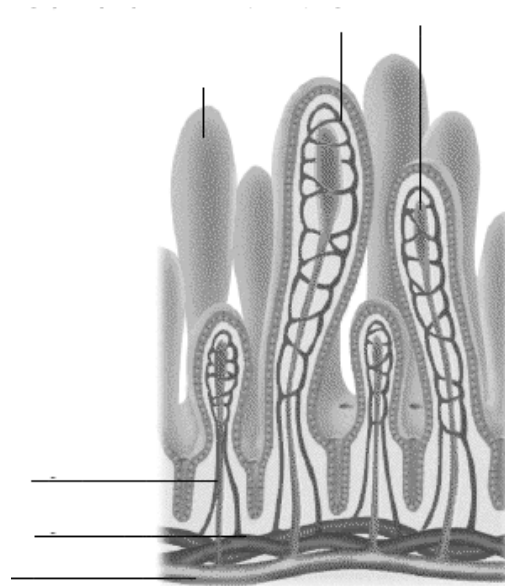


7. A través del índice busca *esófago, anatomía*. Entra en este apartado, completa el esquema de debajo y explica qué es el lumen.



## EL ESTÓMAGO

1. A través del índice busca *estómago, como funciona* y un golpe aquí explica a partir de la explicación que **hi** encuentras di como funciona.
2. Di qué aspecto tienen las células productoras de moco del estómago y cuál es la función de este moco.
3. A través del índice busca *intestino delgado, como funciona* y explica su funcionamiento.
4. En la misma pantalla a bajo a la derecha encontrarás una casilla: *Absorción*. **Clica** en ella, completa el siguiente esquema y explica qué son las vellosidades.



5. Donde se encuentra situado el **pàncreas**? Qué función realiza?
  
  
  
  
  
  
  
  
  
  
6. Qué es la vesícula biliar? Donde se encuentra? Cuál líquido almacena?  
Donde va a parar este líquido?
  
  
  
  
  
  
  
  
  
  
7. **Ves** a *intestino espesor*, como funciona a través del índice y explica qué pasa con las sustancias que no han sido absorbidas por el ano.